

Plan de travail CP N° 11

Du 14 mars 2022

Au 26 mars 2022



Lecture
phonologie



Mathématiques
géométrie



Grammaire/
graphisme



Appréciations :




Phonologie



Je recopie les mots où j'entends è



école



chèvre



forêt



nez



neige



Entoure les images quand tu entends le son de la bulle.



Réponds aux devinettes

Je suis un animal très lent qui a une carapace. —>

Je suis un véhicule qui vole dans le ciel. —>

Je suis le roi des animaux. —>

J'ai 2 pédales et un guidon. —>

J'apparais la nuit dans le ciel. Je suis ronde. —>


Orthographe



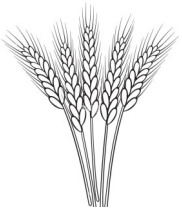
Ecris les mots .



--	--	--	--	--	--	--




--	--	--	--	--



--	--	--




--	--	--	--	--	--



			E
--	--	--	---



--	--	--	--	--



				D
--	--	--	--	---



Ecris puis dessine.

Un petit poisson rouge nage dans son bocal. « Ce serait magique de vivre dans un lac! » pense le petit poisson. Il nage vite et ses nageoires sont puissantes. Mais il doit rester dans son bocal.

A set of horizontal lines for handwriting practice, consisting of a vertical line on the left and several horizontal lines extending to the right.A large, empty rounded rectangular box intended for drawing a picture related to the text.

lecture



Lis et réponds

Le dinosaure rouge

Ce matin, un dinosaure est arrivé dans la vallée. Il est venu voir les autres dinosaures. Les dinosaures de la vallée le regardent. Ils n'avaient jamais vu un dinosaure rouge. « Qu'il est beau! » dit un diplodocus qui passait par là.



Ecris le titre de l'histoire.

De quelle couleur est le dinosaure? Colorie la réponse.

bleu

rouge

vert

Ecris ce que dit le diplodocus au sujet du dinosaure?

Dessine ce que tu as lu

Orthographe



Mets au pluriel

un chat - des pages - mes chaussures -
la lune - le lion - ma voiture - des chevaux

singulier ★	pluriel ★★
<hr/> <hr/> <hr/> <hr/> <hr/> <hr/> <hr/> <hr/> <hr/> <hr/>	<hr/> <hr/> <hr/> <hr/> <hr/> <hr/> <hr/> <hr/> <hr/> <hr/>



Mets au pluriel

Une guêpe -> des guêpes

un loup —> des

une étoile —> des

ma tante —> mes

Production
d'écrits




Écris quelques phrases sur
cette image en t'aidant
des mots .



fille




balai



plage



contente



soleil

Handwriting practice lines consisting of a vertical line on the left and several horizontal lines for writing.

Mathématiques



Calcule.

$9 + 3 = \dots$

$9 + 9 = \dots$

$9 + 6 = \dots$

$9 + 2 = \dots$

$9 + 7 = \dots$

$9 + 5 = \dots$



Ecris les nombres en chiffres ou en lettres

49

quarante-neuf

11

.....

.....

Vingt-huit

54

.....

32

.....

17

.....

.....

Trente-cinq

géométrie

Découpe et complète les suites logiques avec le bon émoticônes.




Dessine les pièces et les billets pour acheter ces objets



35€



8€



12€

Lily a 10 images. Elle reçoit 12 images .

Combien d'images a Lily?

Calcul :

Lily a images.

Maman a acheté 2 boîtes de 5 gâteaux .

Combien de gâteaux maman a acheté?

Calcul :

Maman a acheté gâteaux.



Calcule.

$9 - 5 = \dots$

$6 - 5 = \dots$

$10 - 3 = \dots$

$9 - 2 = \dots$


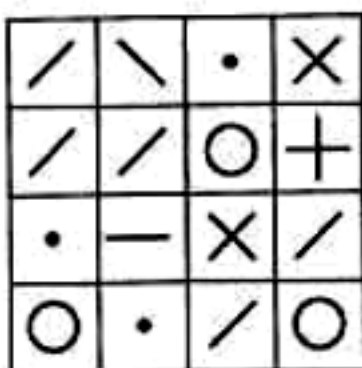

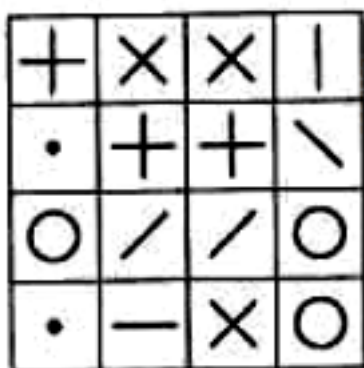

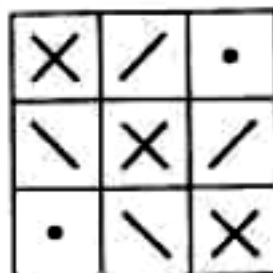
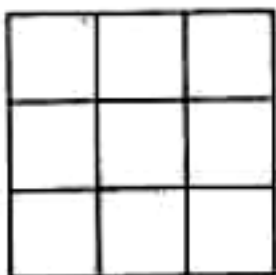
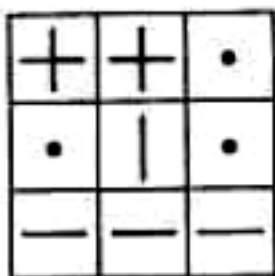

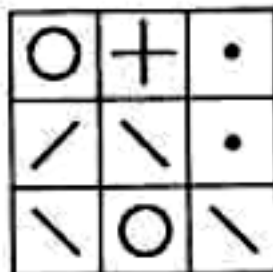
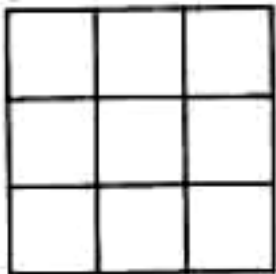
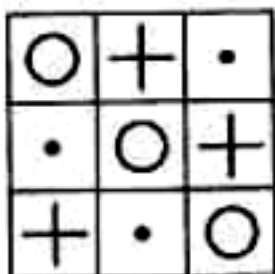
$6 - 6 = \dots$

$7 - 5 = \dots$

Géométrie



Reproduis les modèles.



Coloriage



Colorie

