

# La numération des nombres de 0 à 59

Cycle  
2

Exercice 1 : Dessine les dizaines et les unités de ces nombres

25

17

32

30

41

56

Exercice 2 : Complète comme dans l'exemple

46

40+6

quarante-six

20

45

52

40

49

58

31

27

32

# La numération des nombres de 0 à 59

Cycle  
2

Exercice 3 : Colorie de la même couleur

33

cinquante

$20+6$

$30+3$

quarante-cinq

50

$40+5$

26

Cinquante-huit

45

$50+8$

58

vingt-six

trente-trois

$50+0$

Exercice 4 : Relie les nombres à leur écriture en lettres.

21

trente-huit

42

Cinquante-deux

39

trente-neuf

47

quarante-deux

52

quarante-sept

38

Vingt-et-un

# La numération des nombres de 0 à 59

Cycle  
2

Exercice 5 : Ecris le signe qui convient  $<$ ,  $>$  ou  $=$

$47 \dots\dots 36$

$10 + 6 \dots\dots 20$

$24 \dots\dots 26$

$20 + 5 \dots\dots 26$

$34 \dots\dots 44$

$50 + 2 \dots\dots 42$

$26 \dots\dots 29$

$40 + 4 \dots\dots 41$


$30 \dots\dots 20$

$30 + 6 \dots\dots 35$


$12 \dots\dots 13$

$40 + 3 \dots\dots 40$

Exercice 6 : Entoure les dizaines et écris le nombre d'étoiles



|   |   |
|---|---|
| d | u |
|   |   |



|   |   |
|---|---|
| d | u |
|   |   |

# La numération des nombres de 0 à 59



Cycle  
2

Exercice 7 : Complète la frise numérique.

|    |   |  |  |  |  |   |         |
|----|---|--|--|--|--|---|---------|
| 34 | → |  |  |  |  |   |         |
|    |   |  |  |  |  |   | ↓<br>41 |
| ↓  |   |  |  |  |  | ← |         |
|    | → |  |  |  |  |   |         |

Exercice 8 : Range dans l'ordre croissant (plus petit au plus grand)

|    |    |    |    |    |    |    |    |
|----|----|----|----|----|----|----|----|
| 49 | 19 | 25 | 32 | 41 | 42 | 51 | 55 |
|----|----|----|----|----|----|----|----|

.....

Exercice 9 : Range dans l'ordre décroissant (plus grand au plus petit)

|   |    |    |    |    |    |    |    |
|---|----|----|----|----|----|----|----|
| 3 | 43 | 32 | 56 | 38 | 39 | 40 | 18 |
|---|----|----|----|----|----|----|----|

.....

Exercice 10 : Ecris le nombre d'avant et celui d'après .

..... 38 .....

..... 40 .....

..... 23 .....

..... 29 .....

..... 50 .....

..... 45 .....

..... 32 .....

..... 36 .....

# La numération des nombres de 0 à 59

Cycle  
2

Exercice 11 : Ajoute 2 à chaque fois

|    |  |  |  |  |  |  |  |  |  |  |  |  |  |  |  |  |  |  |  |  |
|----|--|--|--|--|--|--|--|--|--|--|--|--|--|--|--|--|--|--|--|--|
| 32 |  |  |  |  |  |  |  |  |  |  |  |  |  |  |  |  |  |  |  |  |
|    |  |  |  |  |  |  |  |  |  |  |  |  |  |  |  |  |  |  |  |  |

Exercice 12 : Ajoute 5 à chaque fois

|    |  |  |  |  |  |  |  |  |  |  |  |  |  |  |  |  |  |  |  |  |
|----|--|--|--|--|--|--|--|--|--|--|--|--|--|--|--|--|--|--|--|--|
| 15 |  |  |  |  |  |  |  |  |  |  |  |  |  |  |  |  |  |  |  |  |
|----|--|--|--|--|--|--|--|--|--|--|--|--|--|--|--|--|--|--|--|--|

Exercice 13 : Ajoute 10 à chaque fois

|   |  |  |  |  |  |  |  |  |  |  |  |  |  |  |  |  |  |  |  |  |
|---|--|--|--|--|--|--|--|--|--|--|--|--|--|--|--|--|--|--|--|--|
| 3 |  |  |  |  |  |  |  |  |  |  |  |  |  |  |  |  |  |  |  |  |
|---|--|--|--|--|--|--|--|--|--|--|--|--|--|--|--|--|--|--|--|--|

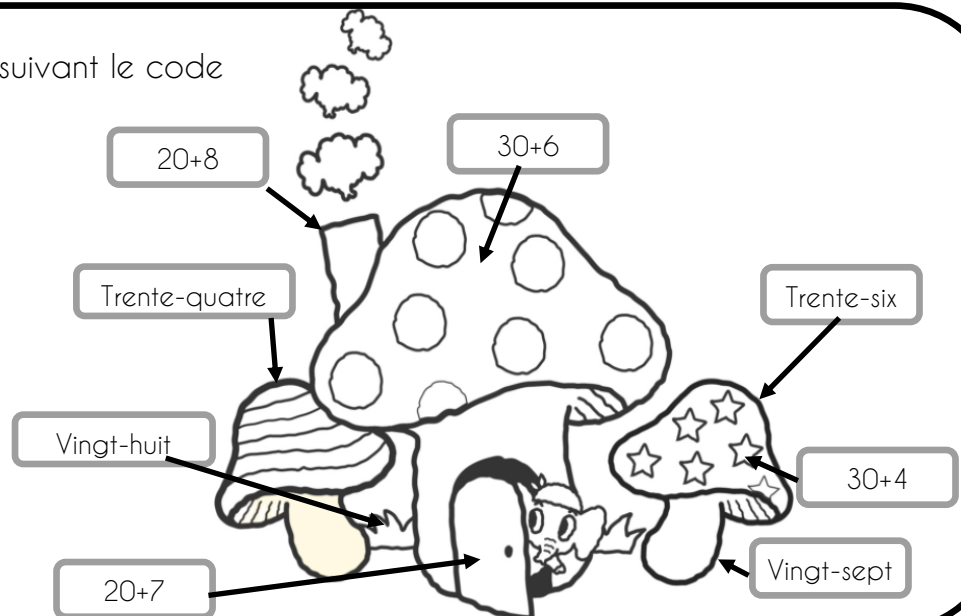
Exercice 14 : Colorie en suivant le code couleur

27 Marron

36 rouge

34 bleu

28 vert




# La numération des nombres de 0 à 59

Cycle  
2

Exercice 15 : Compte le contenu de ces porte-monnaie.




..... €




..... €

Exercice 16 : Dessine la monnaie demandée.

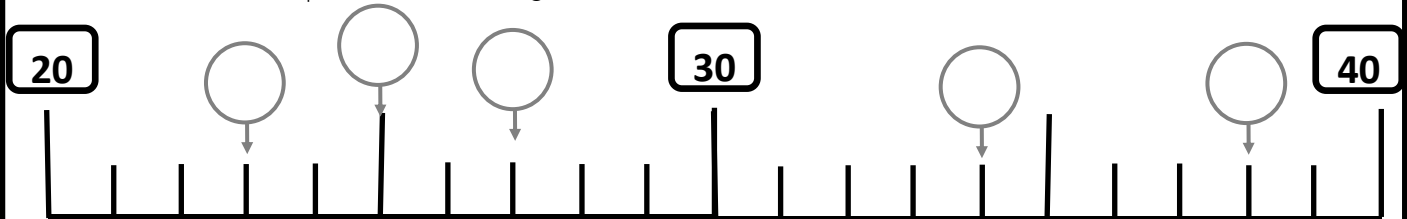


46 €



27 €

Exercice 17 : Complète la droite graduée .



Dessine les dizaines et les unités de ces nombres

25

17

32

30

41

56

Dessine les dizaines et les unités de ces nombres

25

17

32

30

41

56

Dessine les dizaines et les unités de ces nombres

25

17

32

30

41

56

Complète comme dans l'exemple

|    |        |              |
|----|--------|--------------|
| 46 | $40+6$ | quarante-six |
| 20 |        |              |
| 45 |        |              |
| 52 |        |              |
| 40 |        |              |
| 49 |        |              |
| 58 |        |              |
| 31 |        |              |
| 27 |        |              |
| 32 |        |              |

Complète comme dans l'exemple

|    |        |              |
|----|--------|--------------|
| 46 | $40+6$ | quarante-six |
| 20 |        |              |
| 45 |        |              |
| 52 |        |              |
| 40 |        |              |
| 49 |        |              |
| 58 |        |              |
| 31 |        |              |
| 27 |        |              |
| 32 |        |              |



Colorie de la même couleur

33

cinquante

$20+6$

$30+3$

quarante-cinq

$50$

$40+5$

26

Cinquante-huit

$45$

$50+8$

58

vingt-six

trente-trois

$50+0$

Colorie de la même couleur

33

cinquante

$20+6$

$30+3$

quarante-cinq

$50$

$40+5$

26

Cinquante-huit

$45$

$50+8$

58

vingt-six

trente-trois

$50+0$

Colorie de la même couleur

33

cinquante

$20+6$

$30+3$

quarante-cinq

$50$

$40+5$

26

Cinquante-huit

$45$

$50+8$

58

vingt-six

trente-trois

$50+0$

Relie les nombres à leur écriture en lettres.

21



trente-huit



42



Cinquante-deux



39



trente-neuf



47



quarante-deux



52



quarante-sept



38



Vingt-et-un



Relie les nombres à leur écriture en lettres.

21



trente-huit



42



Cinquante-deux



39



trente-neuf



47



quarante-deux



52



quarante-sept



38



Vingt-et-un



Ecris le signe qui convient  $<$ ,  $>$  ou  $=$

$47 \dots 36$

$24 \dots 26$

$34 \dots 44$

$26 \dots 29$

$30 \dots 20$

$12 \dots 13$

$10 + 6 \dots 20$

$20 + 5 \dots 26$

$50 + 2 \dots 42$

$40 + 4 \dots 41$

$30 + 6 \dots 35$

$40 + 3 \dots 40$

Ecris le signe qui convient  $<$ ,  $>$  ou  $=$

$47 \dots 36$

$24 \dots 26$

$34 \dots 44$

$26 \dots 29$

$30 \dots 20$

$12 \dots 13$

$10 + 6 \dots 20$

$20 + 5 \dots 26$

$50 + 2 \dots 42$

$40 + 4 \dots 41$

$30 + 6 \dots 35$

$40 + 3 \dots 40$

Ecris le signe qui convient  $<$ ,  $>$  ou  $=$

$47 \dots 36$

$24 \dots 26$

$34 \dots 44$

$26 \dots 29$

$30 \dots 20$

$12 \dots 13$

$10 + 6 \dots 20$

$20 + 5 \dots 26$


$50 + 2 \dots 42$

$40 + 4 \dots 41$


$30 + 6 \dots 35$

$40 + 3 \dots 40$

Entoure les dizaines et écris le nombre d'étoiles



|   |   |
|---|---|
| d | u |
|   |   |




|   |   |
|---|---|
| d | u |
|   |   |

Entoure les dizaines et écris le nombre d'étoiles

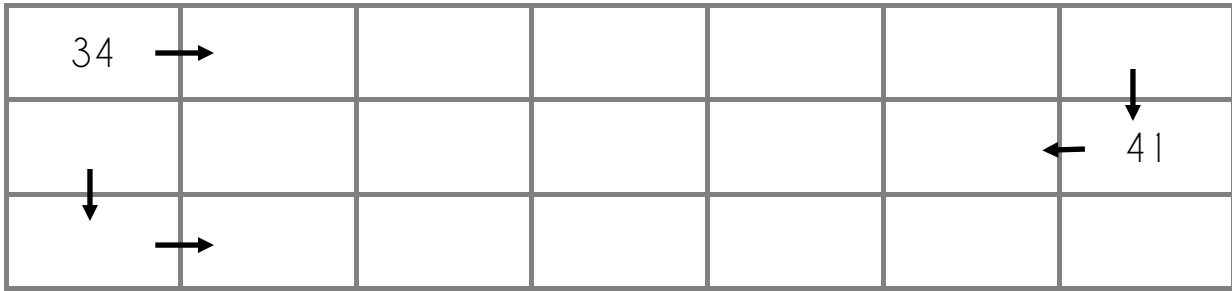


|   |   |
|---|---|
| d | u |
|   |   |

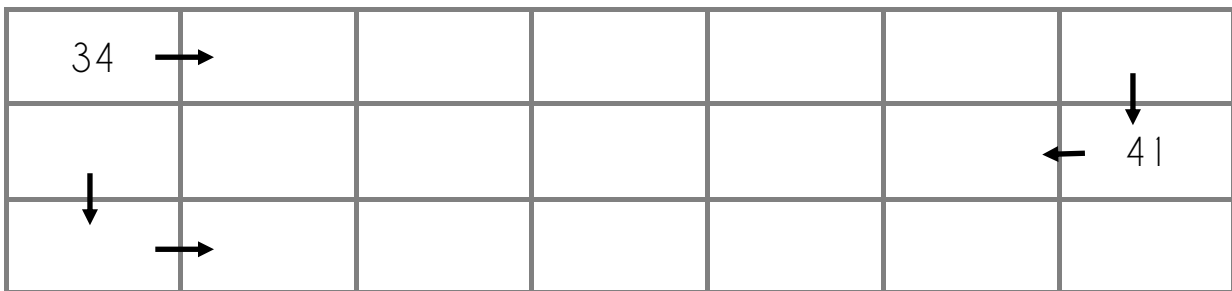


|   |   |
|---|---|
| d | u |
|   |   |

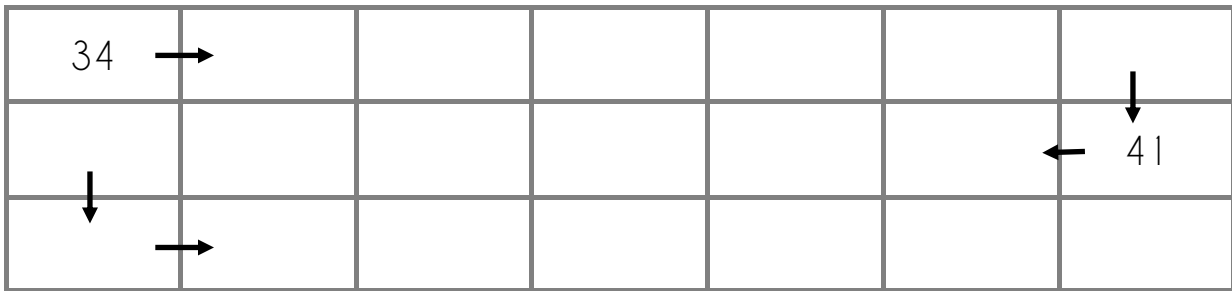
Complète la frise numérique.



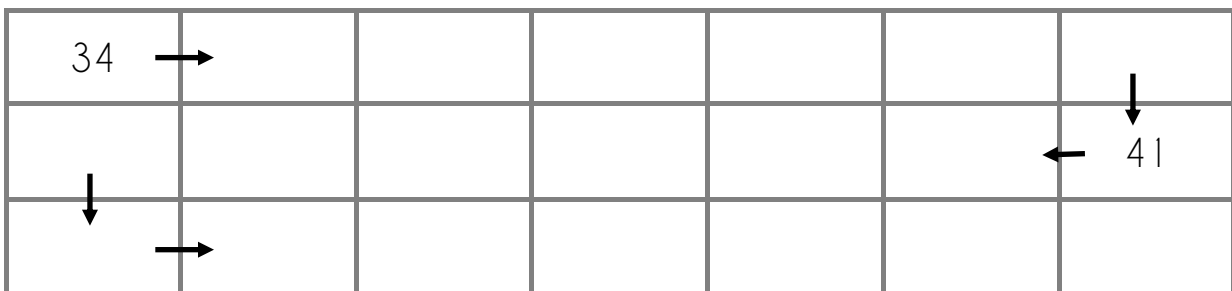
Complète la frise numérique.



Complète la frise numérique.



Complète la frise numérique.



Range dans l'ordre croissant (plus petit au plus grand)

|    |    |    |    |    |    |    |    |
|----|----|----|----|----|----|----|----|
| 49 | 19 | 25 | 32 | 41 | 42 | 51 | 55 |
|----|----|----|----|----|----|----|----|

.....

Range dans l'ordre croissant (plus petit au plus grand)

|    |    |    |    |    |    |    |    |
|----|----|----|----|----|----|----|----|
| 49 | 19 | 25 | 32 | 41 | 42 | 51 | 55 |
|----|----|----|----|----|----|----|----|

.....

Range dans l'ordre croissant (plus petit au plus grand)

|    |    |    |    |    |    |    |    |
|----|----|----|----|----|----|----|----|
| 49 | 19 | 25 | 32 | 41 | 42 | 51 | 55 |
|----|----|----|----|----|----|----|----|

.....

Range dans l'ordre croissant (plus petit au plus grand)

|    |    |    |    |    |    |    |    |
|----|----|----|----|----|----|----|----|
| 49 | 19 | 25 | 32 | 41 | 42 | 51 | 55 |
|----|----|----|----|----|----|----|----|

.....

Range dans l'ordre croissant (plus petit au plus grand)

|    |    |    |    |    |    |    |    |
|----|----|----|----|----|----|----|----|
| 49 | 19 | 25 | 32 | 41 | 42 | 51 | 55 |
|----|----|----|----|----|----|----|----|

.....

Range dans l'ordre décroissant (plus grand au plus petit)

|   |    |    |    |    |    |    |    |
|---|----|----|----|----|----|----|----|
| 3 | 43 | 32 | 56 | 38 | 39 | 40 | 18 |
|---|----|----|----|----|----|----|----|

.....

Range dans l'ordre décroissant (plus grand au plus petit)

|   |    |    |    |    |    |    |    |
|---|----|----|----|----|----|----|----|
| 3 | 43 | 32 | 56 | 38 | 39 | 40 | 18 |
|---|----|----|----|----|----|----|----|

.....

Range dans l'ordre décroissant (plus grand au plus petit)

|   |    |    |    |    |    |    |    |
|---|----|----|----|----|----|----|----|
| 3 | 43 | 32 | 56 | 38 | 39 | 40 | 18 |
|---|----|----|----|----|----|----|----|

.....

Range dans l'ordre décroissant (plus grand au plus petit)

|   |    |    |    |    |    |    |    |
|---|----|----|----|----|----|----|----|
| 3 | 43 | 32 | 56 | 38 | 39 | 40 | 18 |
|---|----|----|----|----|----|----|----|

.....

Range dans l'ordre décroissant (plus grand au plus petit)

|   |    |    |    |    |    |    |    |
|---|----|----|----|----|----|----|----|
| 3 | 43 | 32 | 56 | 38 | 39 | 40 | 18 |
|---|----|----|----|----|----|----|----|

.....

Ecris le nombre d'avant et celui d'après .

..... 38 .....

..... 40 .....

..... 23 .....

..... 29 .....

..... 50 .....

..... 45 .....

..... 32 .....

..... 36 .....

Ecris le nombre d'avant et celui d'après .

..... 38 .....

..... 40 .....

..... 23 .....

..... 29 .....

..... 50 .....

..... 45 .....

..... 32 .....

..... 36 .....

Ecris le nombre d'avant et celui d'après .

..... 38 .....

..... 40 .....

..... 23 .....

..... 29 .....

..... 50 .....

..... 45 .....

..... 32 .....

..... 36 .....

Ecris le nombre d'avant et celui d'après .

..... 38 .....

..... 40 .....

..... 23 .....

..... 29 .....

..... 50 .....

..... 45 .....

..... 32 .....

..... 36 .....



Ajoute 2 à chaque fois

|    |  |  |  |  |  |  |  |  |  |  |
|----|--|--|--|--|--|--|--|--|--|--|
| 32 |  |  |  |  |  |  |  |  |  |  |
|    |  |  |  |  |  |  |  |  |  |  |

Ajoute 2 à chaque fois

|    |  |  |  |  |  |  |  |  |  |  |
|----|--|--|--|--|--|--|--|--|--|--|
| 32 |  |  |  |  |  |  |  |  |  |  |
|    |  |  |  |  |  |  |  |  |  |  |

Ajoute 2 à chaque fois

|    |  |  |  |  |  |  |  |  |  |  |
|----|--|--|--|--|--|--|--|--|--|--|
| 32 |  |  |  |  |  |  |  |  |  |  |
|    |  |  |  |  |  |  |  |  |  |  |

Ajoute 2 à chaque fois

|    |  |  |  |  |  |  |  |  |  |  |
|----|--|--|--|--|--|--|--|--|--|--|
| 32 |  |  |  |  |  |  |  |  |  |  |
|    |  |  |  |  |  |  |  |  |  |  |





Colorie en suivant le code

couleur

27

Marron

36


rouge

34

bleu

28

vert



Colorie en suivant le code

couleur

27

Marron

36

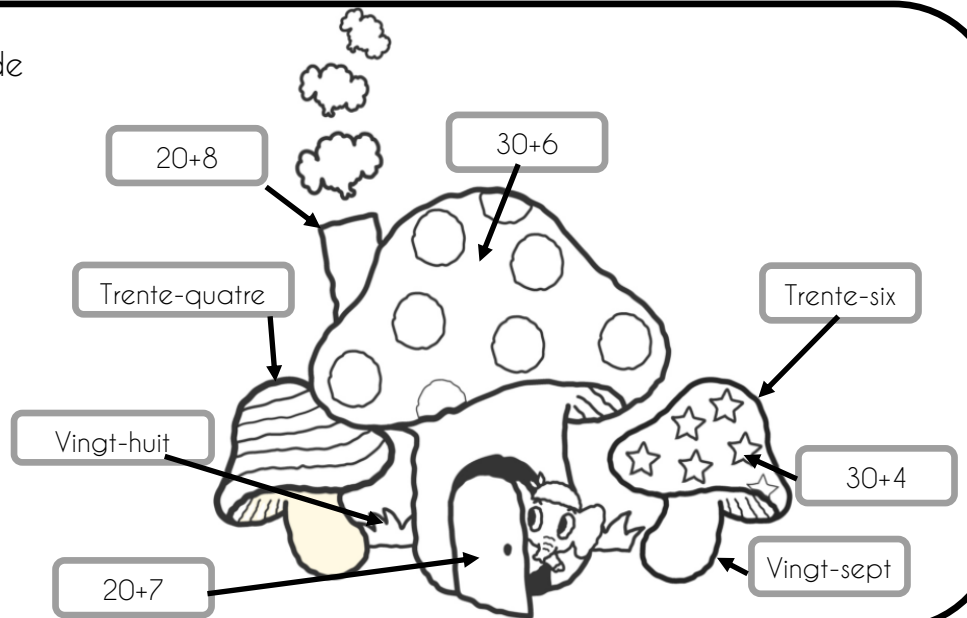
rouge

34

bleu

28

vert



Colorie en suivant le code

couleur

27

Marron

36


rouge

34

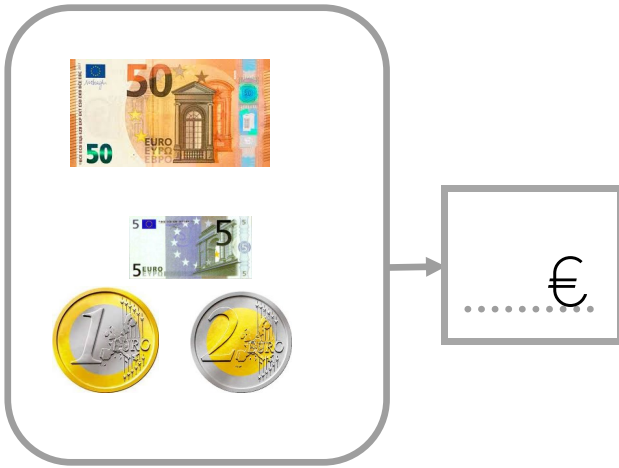
bleu

28

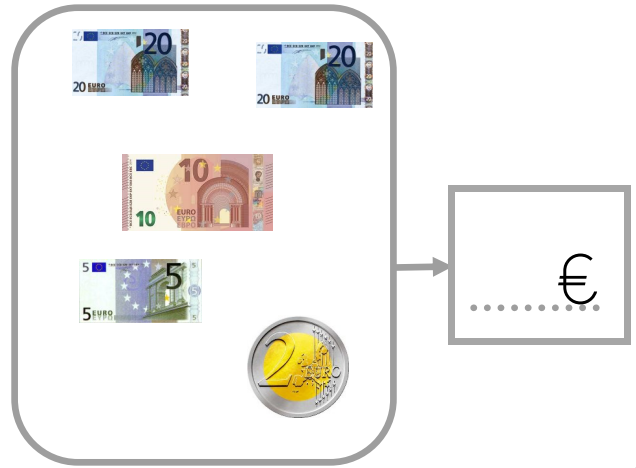
vert



Compte le contenu de ces porte-monnaie.

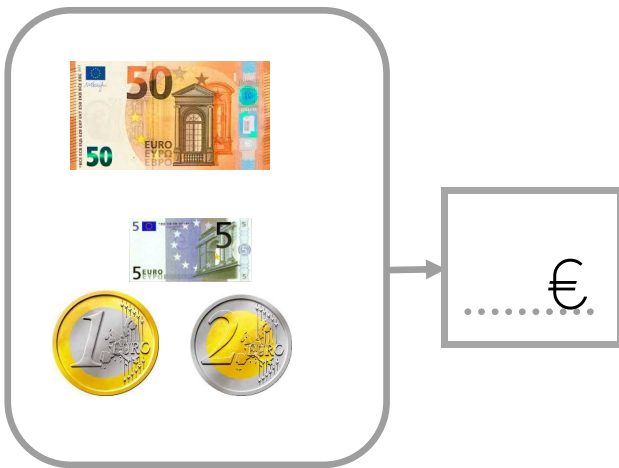


A rounded rectangular frame containing a 50 Euro banknote, a 5 Euro banknote, a 1 Euro coin, and a 2 Euro coin. An arrow points from the frame to a square box containing a dotted line followed by a Euro symbol (€).

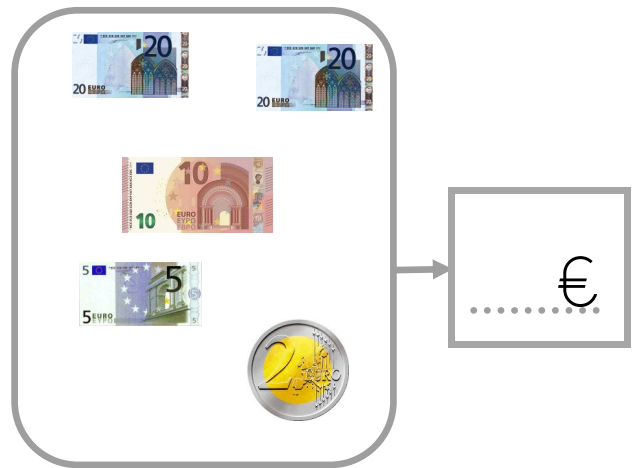


A rounded rectangular frame containing two 20 Euro banknotes, a 10 Euro banknote, a 5 Euro banknote, and a 2 Euro coin. An arrow points from the frame to a square box containing a dotted line followed by a Euro symbol (€).

Compte le contenu de ces porte-monnaie.

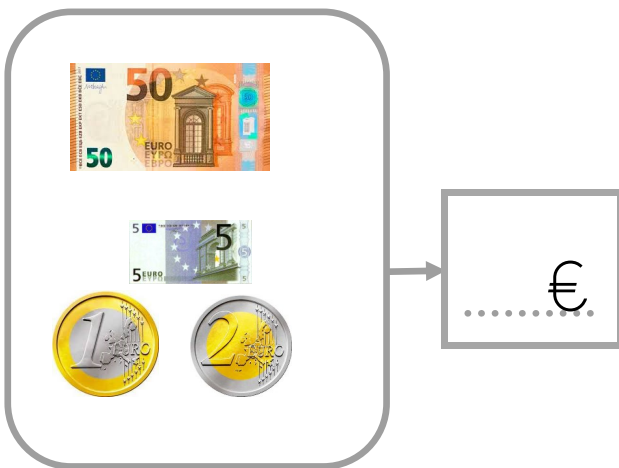


A rounded rectangular frame containing a 50 Euro banknote, a 5 Euro banknote, a 1 Euro coin, and a 2 Euro coin. An arrow points from the frame to a square box containing a dotted line followed by a Euro symbol (€).

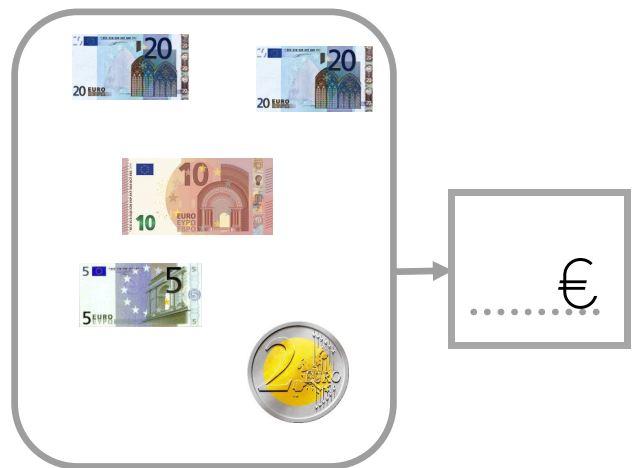


A rounded rectangular frame containing two 20 Euro banknotes, a 10 Euro banknote, a 5 Euro banknote, and a 2 Euro coin. An arrow points from the frame to a square box containing a dotted line followed by a Euro symbol (€).

Compte le contenu de ces porte-monnaie.




A rounded rectangular frame containing a 50 Euro banknote, a 5 Euro banknote, a 1 Euro coin, and a 2 Euro coin. An arrow points from the frame to a square box containing a dotted line followed by a Euro symbol (€).




A rounded rectangular frame containing two 20 Euro banknotes, a 10 Euro banknote, a 5 Euro banknote, and a 2 Euro coin. An arrow points from the frame to a square box containing a dotted line followed by a Euro symbol (€).

Dessine la monnaie demandée.




→ 46 €




→ 27 €

Dessine la monnaie demandée.




→ 46 €




→ 27 €

Exercice 16 : Dessine la monnaie demandée.

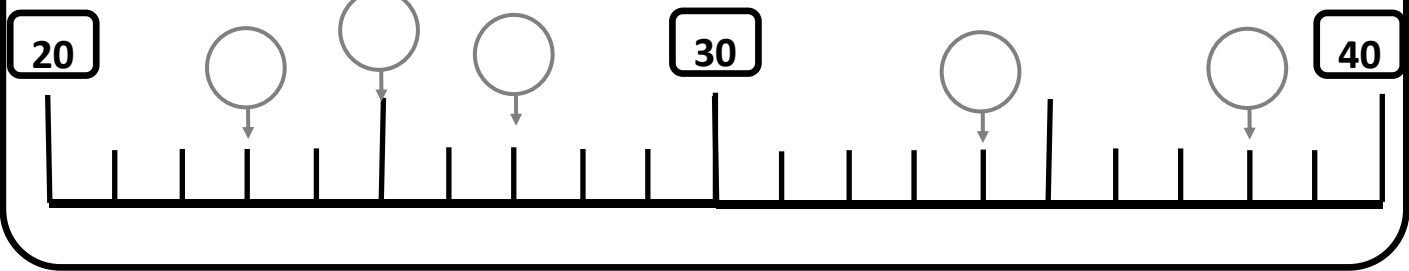


→ 46 €

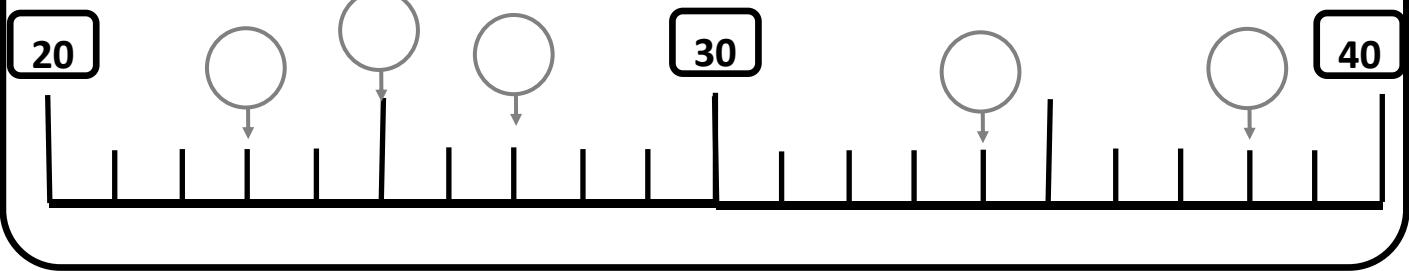


→ 27 €

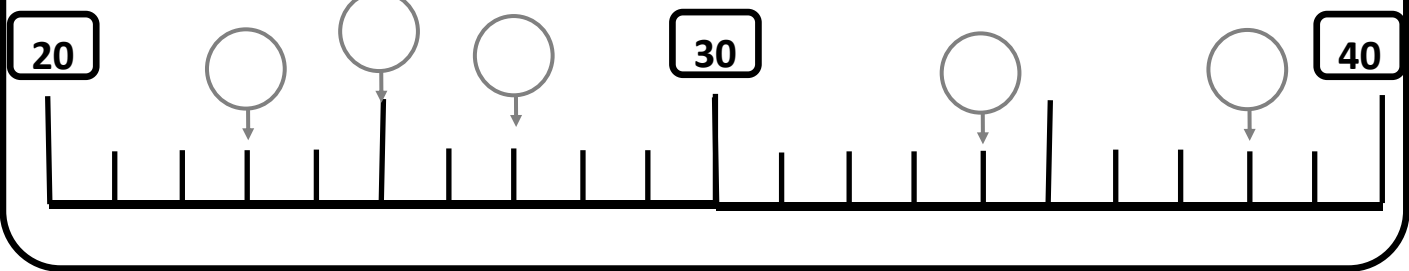
Complète la droite graduée .



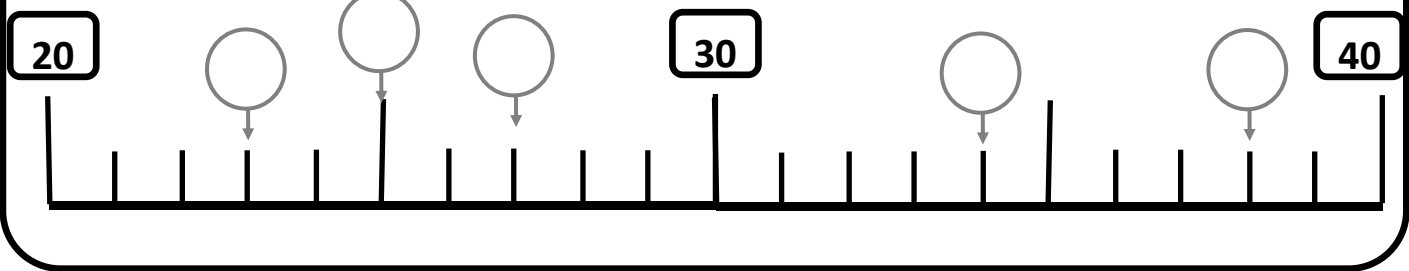
Complète la droite graduée .



Complète la droite graduée .



Complète la droite graduée .



Complète la droite graduée .

